






بشمار و بنویس

انگشتان یک دست را مانند نمونه تا جایی که امکان دارد به دست دیگر منتقل کن و بعد با چوب خط نشان بده.



شکل های هر دو دسته روی هم چند تا می شود؟ جواب را با چوب خط نشان بده.
با چوب خط نشان بده اندازه ی مداد چند تا چینه است.



//



1



1



7



6



بشمار و بنویس


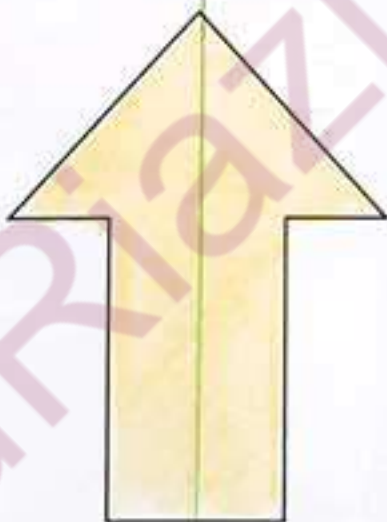

به تعداد چوب خط های سمت چپ، رنگ آبی و به تعداد چوب خط های سمت راست، رنگ سبز بزن.



مانند نمونه با استفاده از خط کش، خطی بکش که شکل را دو نیمه‌ی مثل هم کند. هر دو نیمه را مثل هم رنگ کن.

مربع‌های سمت راست خط را طوری رنگ کن که مانند شکل‌های سمت چپ دو نیمه‌ی مثل هم به وجود آید.

با ابزار کار کن



۲	۵	۱		۳	۴
۳	۴		۲	۵	۱
۱	۲	۵		۶	۳
۴	۶		۵	۱	۲
۵	۱	۴		۲	۶
۶	۳		۱	۴	۵

۱	۴		۳	۲	۵
۲	۵	۳		۴	۶
۶	۱	۲	۵		۴
۵	۳	۴	۲	۶	
	۶	۱	۴	۵	۲
۴		۵	۶	۱	۳



بشمار و بنویس

به تعداد انگشتان دست چپ، رنگ آبی و به تعداد انگشتان دست راست، رنگ سبز بزن.

Hand gestures for 5 and 3, followed by 5 blue circles and 2 green circles.

Hand gestures for 5 and 3, followed by a row of 5 blue rectangles and 2 green rectangles.

Hand gestures for 5 and 3, followed by 5 blue triangles and 2 green triangles.



عدد مربوط به هر دسته را زیر آن بنویس. در هر قسمت دسته‌ای را رنگ کن که شکل‌های بیشتری دارد.
 الگو را با خط کش ادامه بده.

بشمار و بنویس




۴

۵



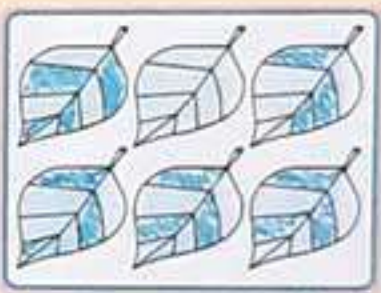
۶

۷



۴

۴



۵

۶

