


عدد مربوط به انگشتان هر دست را بنویس. انگشتان دست چپ را تا جایی که می شود به دست راست منتقل کن و حاصل را بنویس.

بشمار و بنویس




$$3 + 1 = 4$$



$$4 + 3 = 7$$



$$3 + 3 = 6$$



$$4 + 4 = 8$$



بشمار و بنویس

ابتدا به تعداد شکل های هر دسته در سمت راست خط بکش سپس عبارت جمع را کامل کن.
دو عدد را پیدا کن که جمع آنها برابر با عددی باشد که بالای ستون نوشته شده است.

	+		=	
	+		=	
	+		=	

$$4 + 3 = 7$$

$$5 + 3 = 8$$

$$5 + 2 = 7$$



۲	۳	۴	۵	۶
○ ۲	○ ۳	○ ۴	○ ۵	○ ۶
۱ ۲	۱ ۳	۱ ۴	۱ ۵	۱ ۶
۲ ○	۲ ۱	۲ ۲	۲ ۳	۲ ۴
۳ ○	۳ ۱	۳ ۲	۳ ۳	۳ ۴
۴ ○	۴ ۱	۴ ۲	۴ ۳	۴ ۴
۵ ○	۵ ۱	۵ ۲	۵ ۳	۵ ۴
۶ ○	۶ ۱	۶ ۲	۶ ۳	۶ ۴

برای پیدا کردن پاسخ باید خوب خط عدد اول را رسم کنند سپس به تعداد عدد دوم خوب دسته ۵ تایی بعد شروع شود. در قسمت پایین صفحه باید با استفاده از چیزهای جمع های ترکیبی عدد را به دست آورند. برای وارد کردن جواب جمع ها در ستون ها بهتر است از نوشتن نظام دار استفاده شود.

به تعداد عدد سمت چپ، مربع آبی و به تعداد عدد سمت راست، مربع سبز رنگ کن. چند تا مربع رنگ شده است؟ حاصل جمع را بنویس.



$4 + 2 = 6$
 $2 + 3 = 5$
 $3 + 4 = 7$
 $6 + 3 = 9$
 $5 + 5 = 10$
 $4 + 6 = 10$
 $7 + 3 = 10$

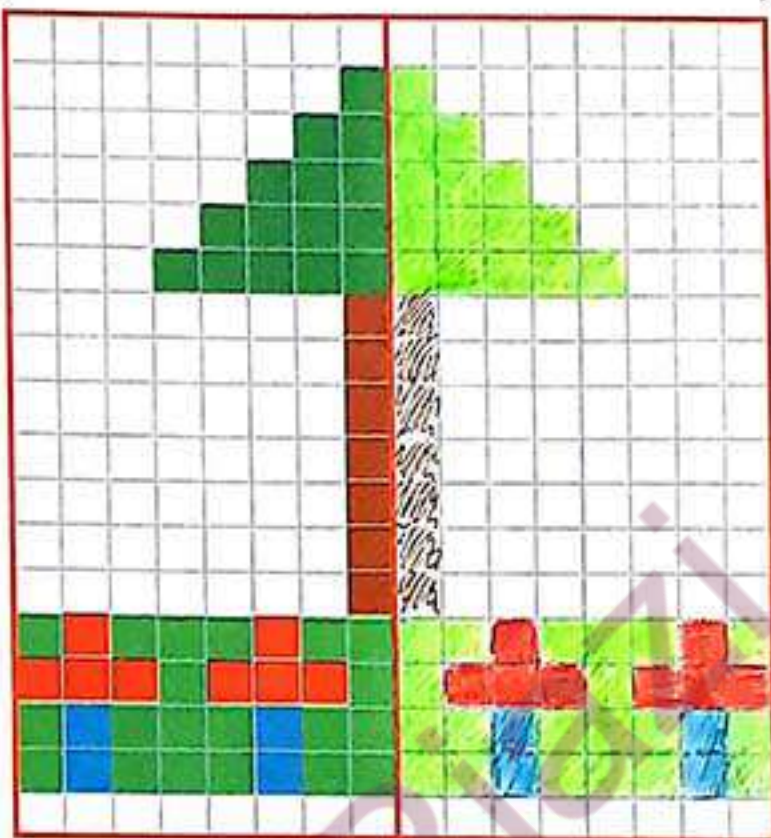
۱۰ - ۱۰ - ۱۰





الگویابی
کن

نیمه‌ی سمت راست شکل را مثل نیمه‌ی سمت چپ آن رنگ کن.
مربع‌های شگفت‌انگیز را کامل کن.



www.ostadriazi.com



۴	۱	۵	۲	۶	۷	۹	۸	۳
۲	۹	۶	۵	۸	۳	۷	۴	۱
۷	۳	۸	۱	۹	۴	۲	۵	۶
۱	۲	۹	۸	۴	۶	۵	۳	۷
۵	۸	۳	۷	۲	۹	۱	۶	۴
۶	۷	۴	۳	۱	۵	۸	۹	۲
۸	۵	۷	۴	۳	۱	۶	۲	۹
۳	۶	۱	۹	۵	۲	۴	۷	۸
۹	۴	۲	۶	۷	۸	۳	۱	۵



دو عدد پیدا کن که جمع آنها برابر با عددی باشد که بالای آن ستون نوشته شده است.

بشمار و بنویس



۷	۸	۹	۱۰
۰ ۷	۵ ۸	۵ ۹	۵ ۹
۱ ۶	۱ ۷	۱ ۸	۱ ۹
۲ ۵	۲ ۶	۲ ۷	۲ ۸
۳ ۴	۳ ۵	۳ ۶	۳ ۷
۴ ۳	۴ ۴	۴ ۵	۴ ۶
۵ ۲	۵ ۳	۵ ۴	۵ ۵
۶ ۱	۶ ۲	۶ ۳	۶ ۴
۷ ۰	۷ ۱	۷ ۲	۷ ۳
	۸ ۰	۸ ۱	۸ ۲
		۹ ۰	۹ ۱
			۱۰ ۰





با ابزار
کار کن

عددهای مثل هم را با توجه به شکل زیر با خط کش به هم وصل کن تا شکل سمت چپ
به دست آید.

