
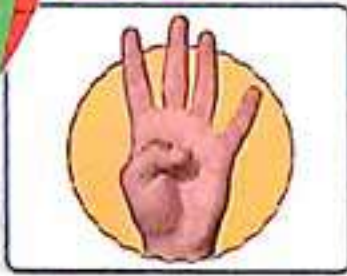


۱۴

بشمار و بنویس

به تعداد انگشتانی که دست سمت راست نشان می دهد از انگشتان دست سمت چپ بکند. حالا چه عددی را نشان می دهد؟ تفریق مربوط به شکل ها را بنویس.



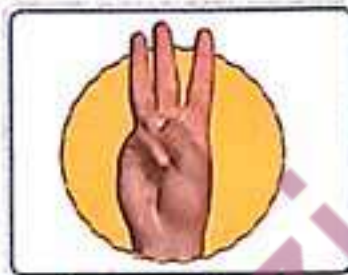
۴

-

۱

=

۳



۵

-

۳

=

۲



۵

-

۲

=

۳



۴

-




۴

=


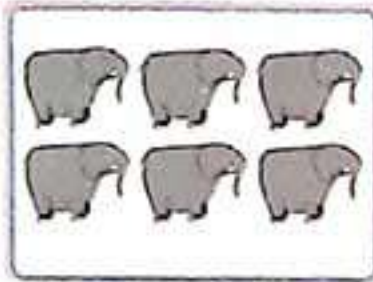
۰

چند تا بودند؟ چند تا رفتند؟ چند تا ماندند؟ حالا یک عبارت تفریق برای شکل‌ها بنویس.



بشمار و بنویس





$$5 - 4 = 1$$



$$6 - 2 = 4$$



$$8 - 3 = 5$$



$$9 - 6 = 3$$



بشمار و بنویس


مانند نمونه با کشیدن شکل یا رنگ کردن، جمع کن.
 مربع شگفت انگیز پایین را کامل کن.



$$۴ + ۳ = ۷$$

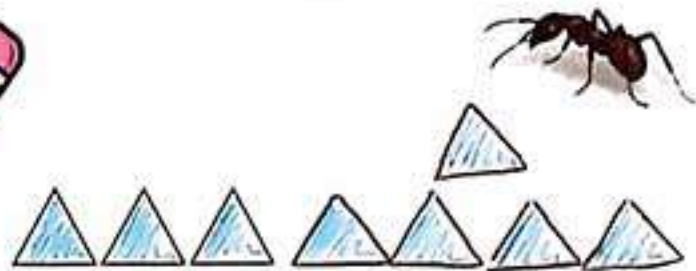


$$۵ + ۲ = ۷$$



$$۷ + ۲ = ۹$$

۵	۱	۴	۳	۲	۶
۶	۳	۲	۱	۴	۵
۱	۲	۵	۴	۶	۳
۴	۶	۳	۵	۱	۲
۲	۵	۱	۶	۳	۴
۳	۴	۶	۲	۵	۱



$$۳ + ۵ = ۸$$



$$۶ + ۳ = ۹$$




$$۵ + ۵ = ۱۰$$

۵	۲	۳	۶	۴	۱
۶	۴	۱	۳	۵	۲
۴	۳	۵	۲	۱	۶
۱	۶	۲	۴	۳	۵
۲	۵	۴	۱	۶	۳
۳	۱	۶	۵	۲	۴




مانند نمونه تفریق کن.
 هر اندازه‌ی هر شکل چند تا شکل کوچک است؟



$$6 - 2 = 4$$



$$8 - 5 = 3$$



$$5 - 3 = 2$$



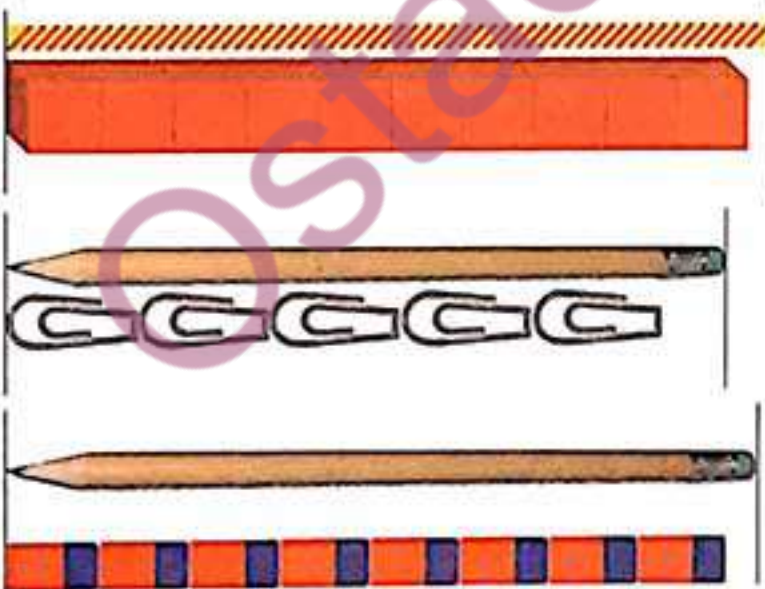
$$7 - 4 = 3$$



$$9 - 6 = 3$$



$$10 - 5 = 5$$



اندازه‌ی نی کسی بلندتر از ۱۰ ...


اندازه‌ی مداد کسی بلندتر از ۵ ...

اندازه‌ی مداد کسی بلندتر از ۸ ...



بشمار و رنگ کن

مانند نمونه برای هر عدد از یک رنگ استفاده کن و با رنگ کردن، جواب جمع را پیدا کن. جاهای خالی را با عدد مناسب پر کن. نمونه‌ی آخر را خودت رنگ کن.



$$1 + 3 + 2 = 6$$



$$2 + 2 + 2 = 6$$



$$0 + 2 + 4 = 6$$



$$2 + 3 + 2 = 7$$



$$4 + 2 + 1 = 7$$



$$2 + 3 + 2 = 7$$



سمت راست شکل را با شابلون کامل کن. شکل را طوری رنگ کن که دو نیمه‌ی آن مثل هم باشد.

با ابزار
کار کن

