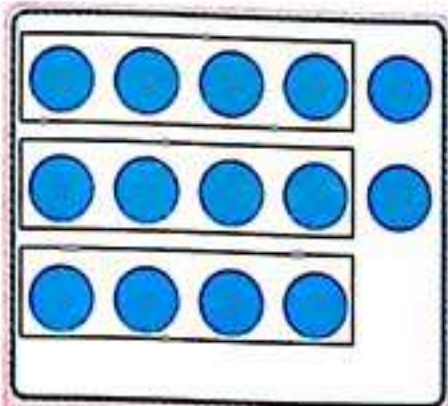




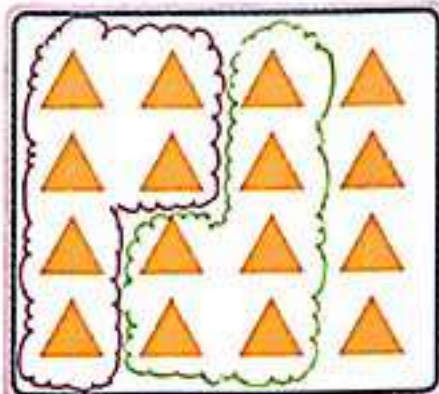
مانند نمونه در هر قسمت با توجه به عدد کنار آن، شکل‌ها را با کشیدن خط، دسته‌بندی کن.
 عدد کنار هر قسمت، تعداد شکل‌های هر دسته را نشان می‌دهد.

بشمار و بنویس



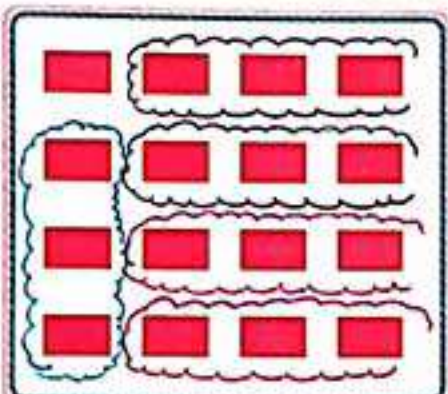
۳... دسته‌ی چهارتایی و
 ۲... یکی

۱۴



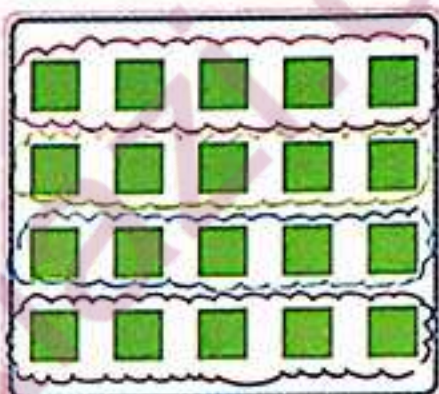
۲... دسته‌ی شش‌تایی و
 ۴... یکی

۶



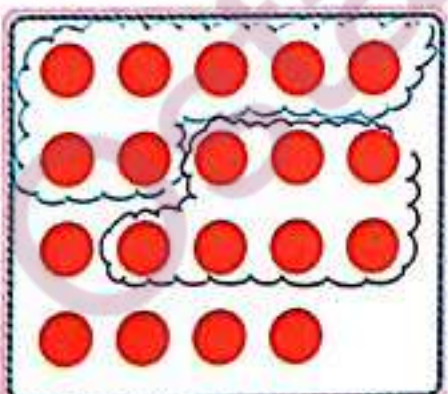
۵... دسته‌ی سه‌تایی و
 ۱... یکی

۳



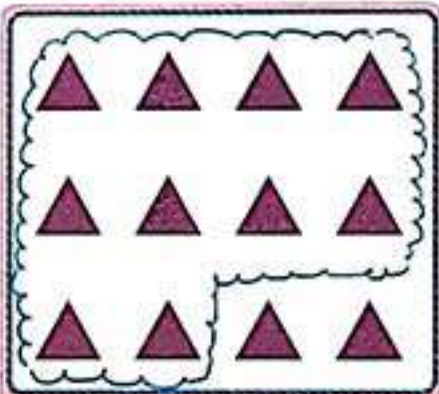
۴... دسته‌ی پنج‌تایی و
 ۵... یکی

۵



۲... دسته‌ی هفت‌تایی و
 ۵... یکی

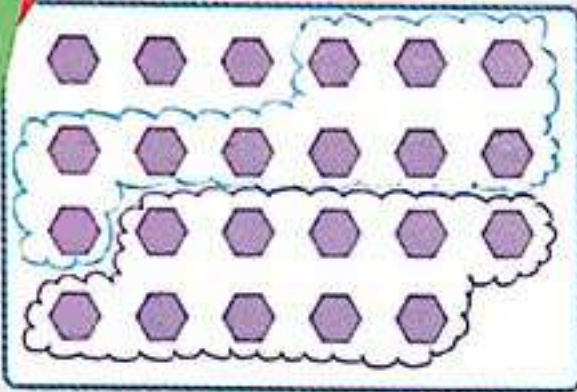
۷



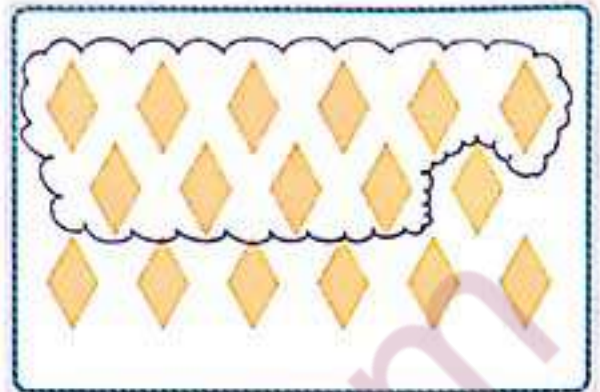
۱... دسته‌ی ده‌تایی و
 ۲... یکی

۱۰

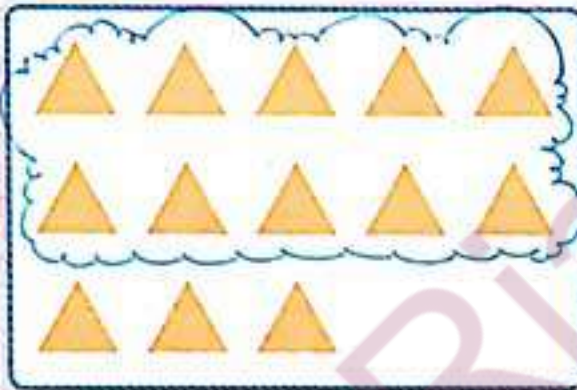




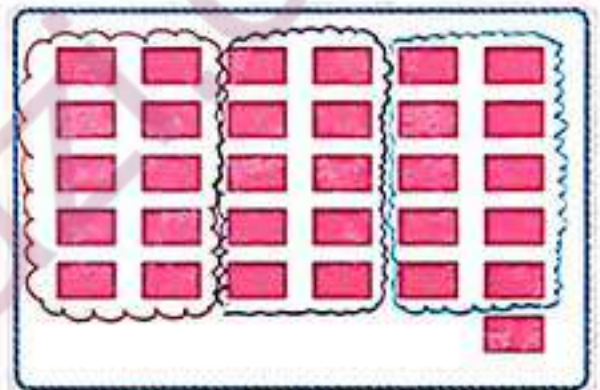
۱... دسته‌ی ده‌تایی و
۳... یکی



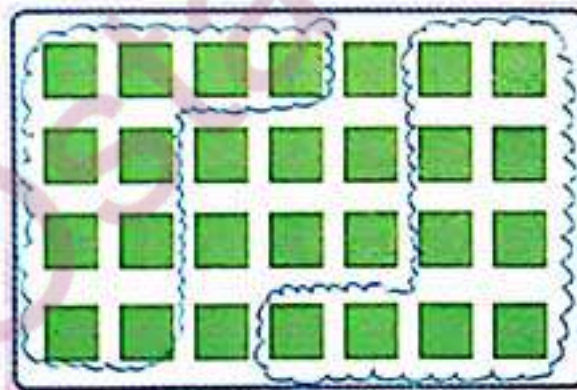
۱... دسته‌ی ده‌تایی و
۷... یکی




۱... دسته‌ی ده‌تایی و
۳... یکی



۳... دسته‌ی ده‌تایی و
۱... یکی




۲... دسته‌ی ده‌تایی و
۸... یکی

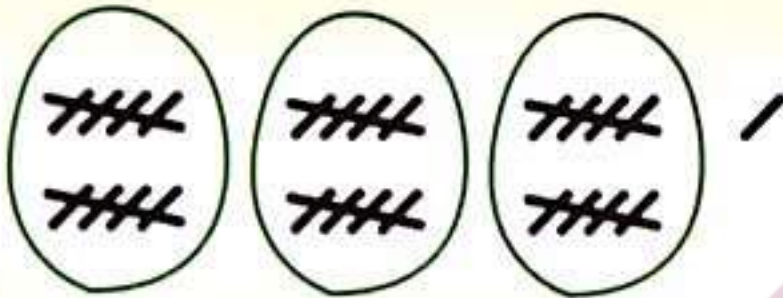


۱... دسته‌ی ده‌تایی و
۴... یکی





ده تایی	یکی
۲	۴




ده تایی	یکی
۲	۱



ده تایی	یکی
۲	۶



ده تایی	یکی
۱	۰




ده تایی	یکی
۱	۰




ده تایی	یکی
۱	۰


۱۰




ده تایی	یکی
۳	۲



ده تایی	یکی
۵	۰



ده تایی	یکی
۳	۶



ده تایی	یکی
۶	۵

۱	۵	۲	۴	۶	۳
۶	۴	۳	۱	۲	۵
۵	۲	۱	۳	۴	۶
۳	۶	۴	۲	۵	۱
۴	۱	۵	۶	۳	۲
۲	۳	۶	۵	۱	۴

۱	۴	۶	۵	۲	۳
۲	۵	۳	۶	۴	۱
۶	۱	۲	۴	۳	۵
۵	۳	۴	۱	۶	۲
۳	۶	۱	۲	۵	۴
۴	۲	۵	۳	۱	۶



دانش آموزان در جدول شگفت انگیز باید راهبرد حدس و آزمایش (آزمون و خطا) را به کار ببرند.

فرزند شما از این صفحه وارد مرحله ای می شود که برای کامل کردن جدول ها باید از مداد و پاک کن استفاده کند. ممکن

است حدس اول آنها اشتباه باشد.

سمت راست شکل را کامل کن و شکل وسط را مانند نمونه رنگ کن.
اندازه‌ی بلندی درخت چند تا آدم است؟

الگویابی
کن







با ابزار کار کن

عددهای مثل هم را با خط کش و با یک رنگ به هم وصل کن.

