



بشمار و بنویس

تعداد شکل های هر دسته را با چوب خط شمار. با شکل ها دسته های ده تایی درست کن. جدول را کامل کن و عدد مربوط به هر دسته را بنویس.

ده تایی	یکی
۱	۲

۱۲

ده تایی	یکی
۰	۱

۱۱

ده تایی	یکی
۰	۳

۱۳

ده تایی	یکی
۰	۴

۱۴

هر دسته چند شکل دارد؟ با چوب خط بشمار و عدد هر دسته را بنویس.


بشمار و بنویس




۱۵



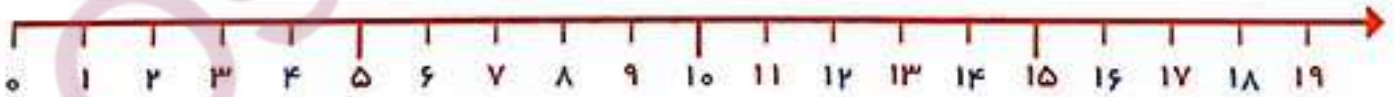
۲۰



۱۷



۱۸




۱۱ - ۱۲ - ۱۳



الگویابی
کن

نیچه‌ی سمت راست شکل را مثل سمت چپ رنگ کن.





۴	۱	۵	۲	۶	۷	۹	۸	۳
۲	۹	۶	۵	۸	۳	۷	۴	۱
۷	۳	۸	۱	۹	۴	۲	۵	۶
۱	۲	۹	۸	۴	۶	۵	۳	۷
۵	۸	۳	۷	۲	۹	۱	۶	۴
۶	۷	۴	۳	۱	۵	۸	۹	۲
۸	۵	۷	۴	۳	۱	۶	۲	۹
۳	۶	۱	۹	۵	۲	۴	۷	۸
۹	۴	۲	۶	۷	۸	۳	۱	۵

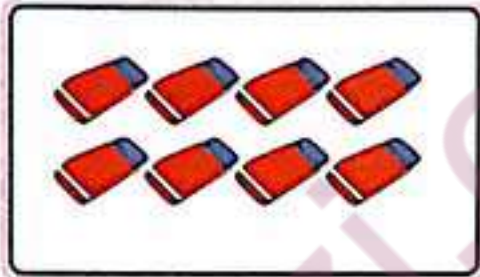
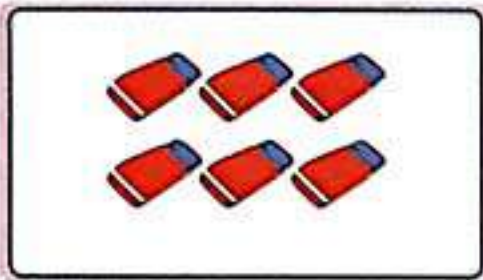


به کمک انگشتان، جواب جمع را پیدا کن. حالا بگو دو دسته روی هم چند شکل دارد؟ برای آن یک جمع بنویس.

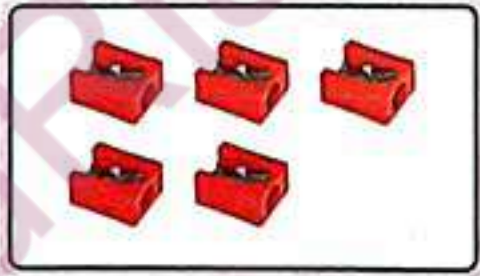
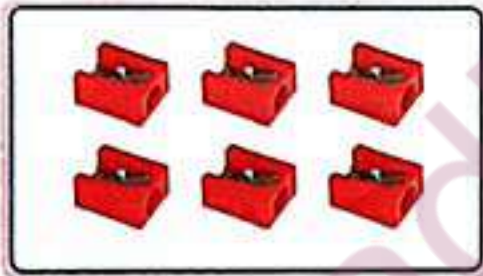
بشمار و بنویس




$$\begin{array}{|c|} \hline 7 \\ \hline \end{array} + \begin{array}{|c|} \hline 6 \\ \hline \end{array} = \begin{array}{|c|} \hline 13 \\ \hline \end{array}$$



$$\begin{array}{|c|} \hline 6 \\ \hline \end{array} + \begin{array}{|c|} \hline 8 \\ \hline \end{array} = \begin{array}{|c|} \hline 14 \\ \hline \end{array}$$



$$\begin{array}{|c|} \hline 6 \\ \hline \end{array} + \begin{array}{|c|} \hline 5 \\ \hline \end{array} = \begin{array}{|c|} \hline 11 \\ \hline \end{array}$$



$$\begin{array}{|c|} \hline 8 \\ \hline \end{array} + \begin{array}{|c|} \hline 7 \\ \hline \end{array} = \begin{array}{|c|} \hline 15 \\ \hline \end{array}$$

عددها را با خط کش به شکل مناسب وصل کن.

با ابزار کار کن



10

11

12

13

14

15

16

17

18

19

10

11

12

13

14

15

16

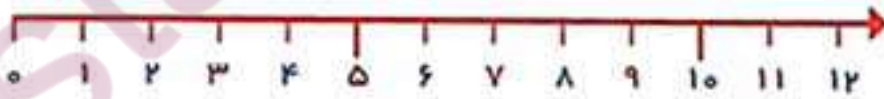
17

18

19

- ۱۰
- ۱۱
- ۱۲
- ۱۳
- ۱۴
- ۱۵
- ۱۶
- ۱۷
- ۱۸
- ۱۹





اندازه‌ی چاقو از ... ۵ ... کوتاه‌تر است.



اندازه‌ی چنگال از ... ۶ ... کوتاه‌تر است.