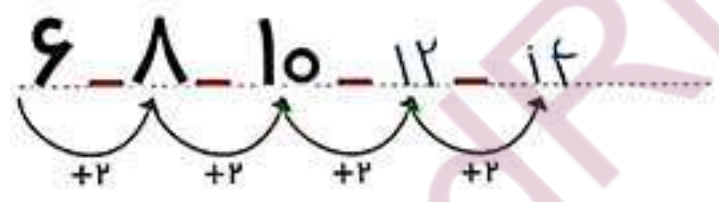
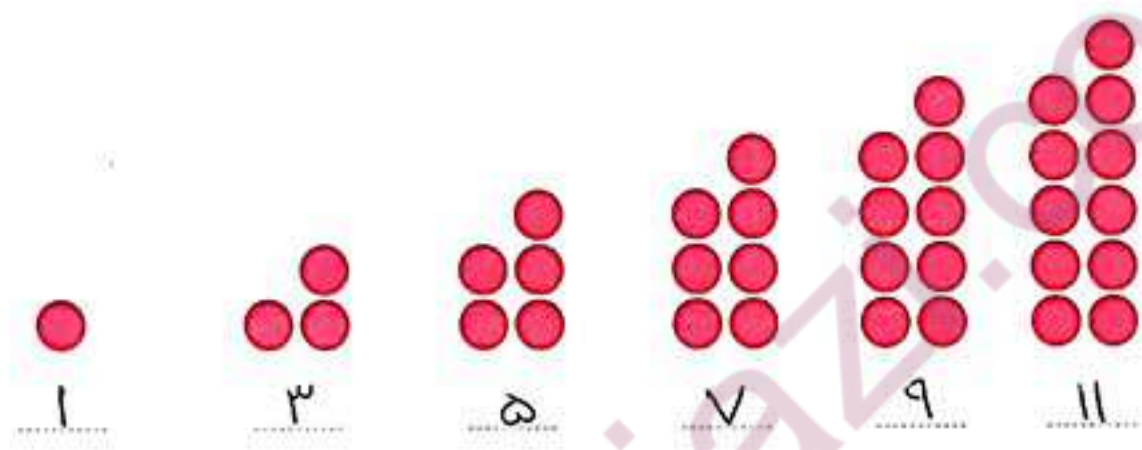
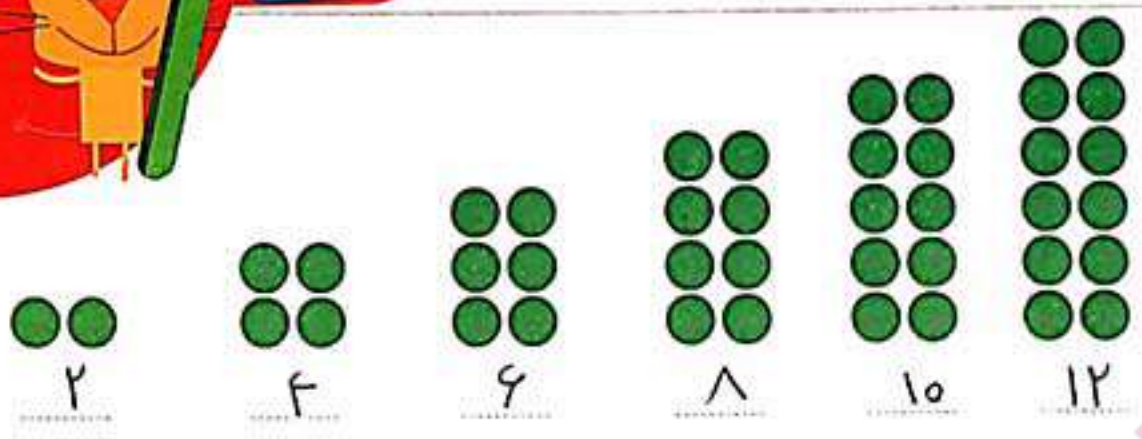






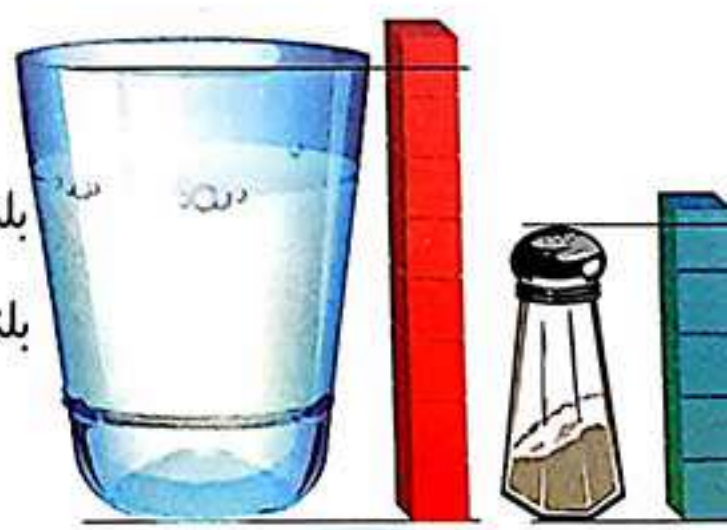
بشمار و بنویس

در جاهای خالی عدد مناسب بنویس.



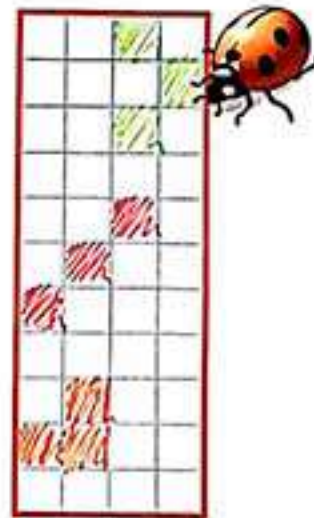

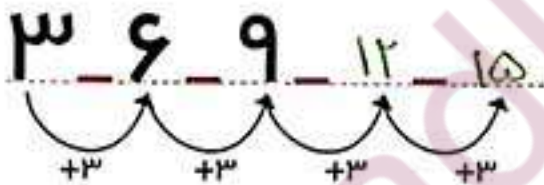
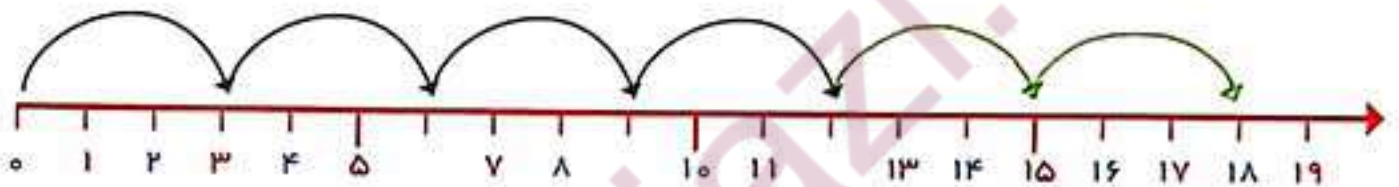
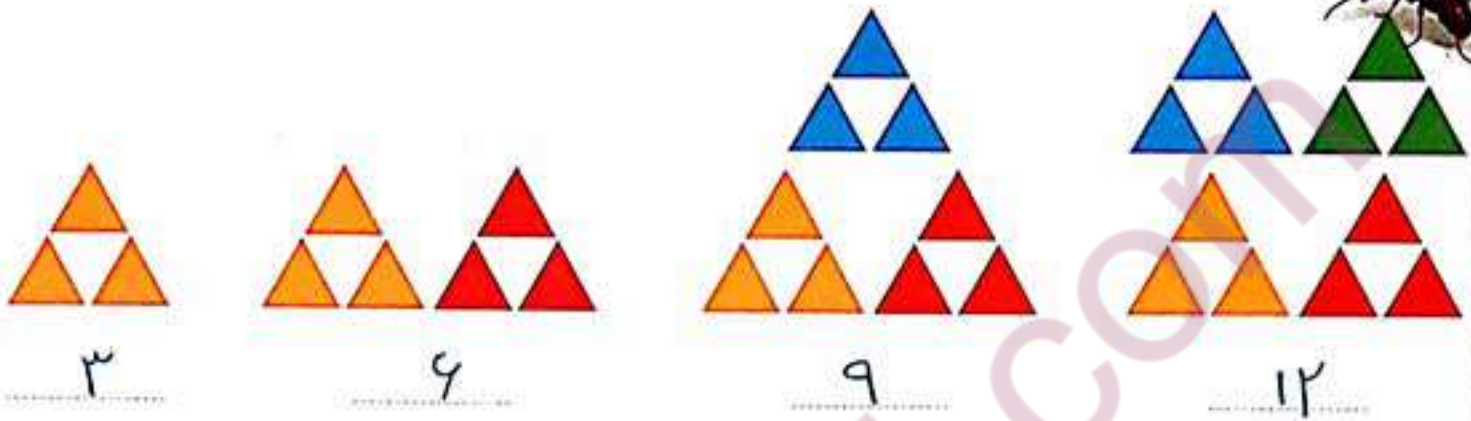
بلندی نمکدان بین ۴ تا ۵ است.

بلندی لیوان بین ۷ تا ۸ است.



عدد هر شکل را بنویس. جاهای خالی را با عدد مناسب پر کن.
 الگوها را ادامه بده. یک شکل ۳ تایی در نظر بگیر و یک الگو بساز.

بشمار و بنویس





بشمار و بنویس

حاصل جمع‌ها را با چوب خط پیدا کن و عبارت جمع را بنویس.

//		=	
----	--	---	--

۲	+	۱۲	=	۱۴
---	---	----	---	----

	+		=	
--	---	--	---	--

۷	+	۹	=	۱۶
---	---	---	---	----

	+		=	
--	---	--	---	--

۹	+	۹	=	۱۸
---	---	---	---	----


	+		=	
--	---	--	---	--

۸	+	۷	=	۱۵
---	---	---	---	----





۴



۸



۱۲



۱۶



۴



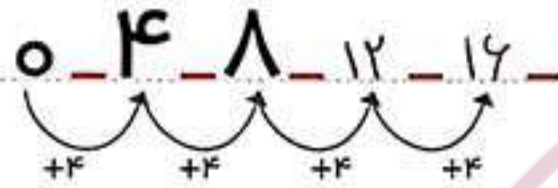
۸




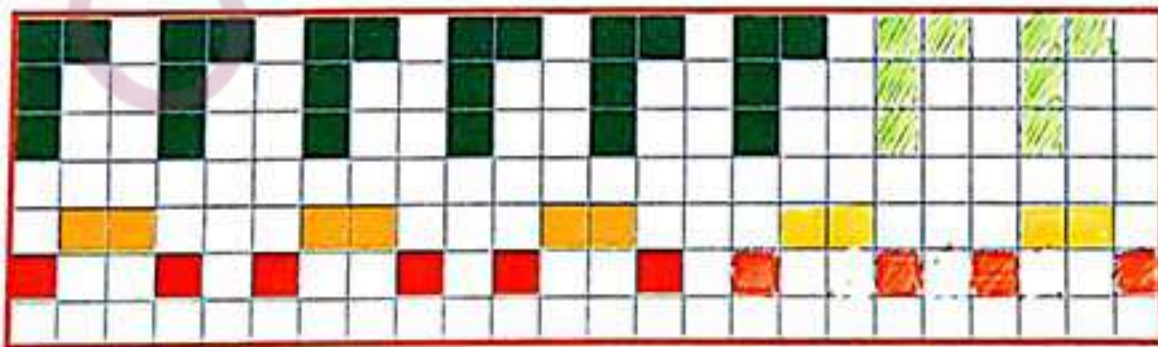
۱۲



۱۶



۱	۲	۳	۴	۵	۶	۷	۸	۹	۱۰
۱۱	۱۲	۱۳	۱۴	۱۵	۱۶	۱۷	۱۸	۱۹	۲۰





با ابزار
کار کن


الگوهای دو طرف فرش را ادامه بده. با شابلون دو طرف فرش، شکل های یکسان بکش.

۶	۲	۹	۸	۳	۷	۱	۴	۵
۷	۸	۱	۴	۹	۵	۳	۲	۶
۴	۳	۵	۲	۲	۱	۸	۹	۷
۵	۷	۳	۶	۴	۲	۹	۸	۱
۹	۴	۶	۳	۱	۸	۷	۵	۲
۸	۱	۲	۷	۵	۹	۶	۳	۴
۲	۹	۷	۱	۸	۴	۵	۶	۳
۱	۶	۸	۵	۲	۳	۴	۷	۹
۳	۵	۴	۹	۷	۶	۲	۱	۸

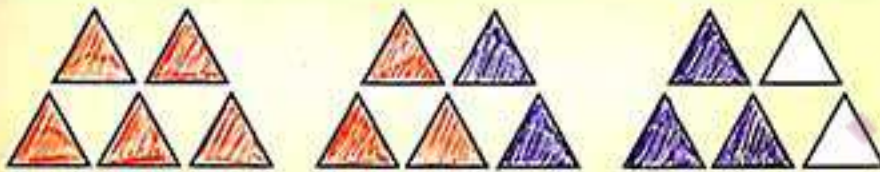


با استفاده از ۲ رنگ مختلف، جواب جمع را پیدا کن.

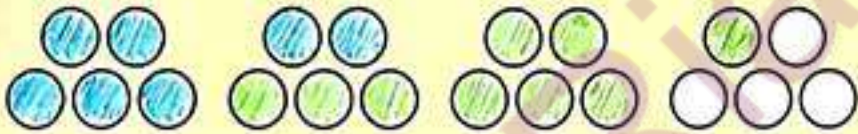
مسئله
حل کن




$$6 + 7 = 13$$



$$8 + 5 = 13$$



$$7 + 9 = 16$$



$$9 + 6 = 15$$



$$9 + 8 = 17$$