



دفتر مشاوران
دانش آموزان
پلارنگی

۳





بشمار و رنگ کن

به تعداد شکل های سمت چپ، از شکل های سمت راست رنگ کن.
جدول های زیر را با رنگ مناسب کامل کن.




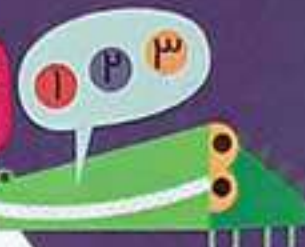
دانش آموزان برای پیدا کردن تعداد شکل هایی که باید رنگ شود

بدون شمردن و با برقراری تناظر، شکل ها را رنگ کنند. در مربع های شگفت انگیز در هر سطر

در زندگی روزمره موارد زیادی هست که بدون شمردن می توان دسته های با تعداد مساوی را پیدا کرده برای مثال، شمار هر صفت یک چغندر است.

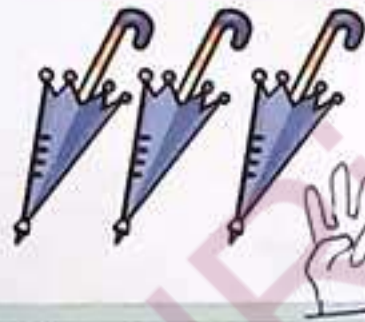
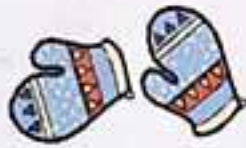
تعداد شکل های هر دسته را سریع بگو.
 الگورا ادامه بده و دو شکل بعد هر الگورا بکش.

بشمار
و بگو



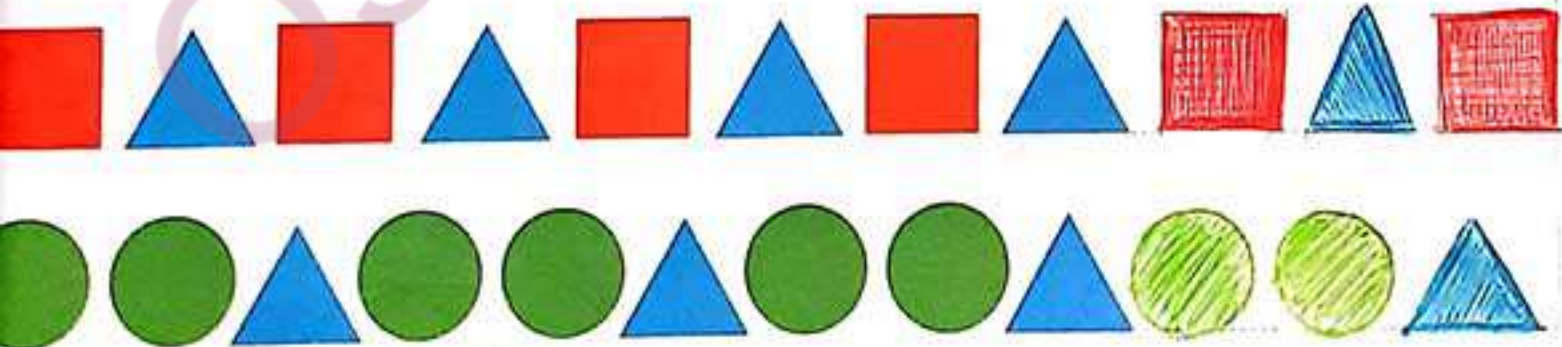
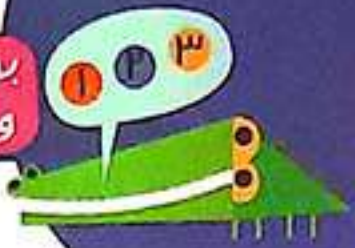
بشمار
و بگو

تعداد شکل های دسته ی سمت راست را با انگشتان دست راست
و تعداد شکل های دسته ی سمت چپ را با انگشتان دست چپ خود نشان بده.



تعداد شکل‌های هر دسته را بگو. حالا اگر یک شکل به شکل‌های هر دسته اضافه کنیم چه عددی را نشان می‌دهد؟ با انگشتان دست نشان بده. الگورا ادامه بده و شکل بعد هر الگورا بکش.

بشمار و بگو





بشمار و رنگ کن

مربع‌هایی را که نقطه دارد، با رنگ‌های مناسب رنگ کن تا یک نقاشی شطرنجی درست شود. جدول را با شکل مناسب کامل کن.






یکی بعد و یکی قبل از تعداد شکل های هر دسته را بگو و با انگشتان دست نشان بده.
 الگوی شطرنجی را ادامه بده.

بشمار و بگو



Illustrations for counting practice, each in a speech bubble with hand gestures indicating the count:

- Two purple umbrellas (Count: 2)
- Three pairs of shoes (Count: 6)
- Two colorful umbrellas (Count: 2)
- Two keys (Count: 2)
- One blue jacket (Count: 1)
- Three backpacks (Count: 3)
- Three houses (Count: 3)
- Two clouds with rain (Count: 2)
- One colorful car (Count: 1)



A 3x10 grid for a pattern activity. The first 7 columns have a repeating pattern of blue, red, and green squares. The last 3 columns have a pattern of blue and red squares with diagonal hatching.