



جاهای خالی را پر کن.
مانند الگوی داده شده ادامه بده و جدول را رنگ کن.

بشمار و بنویس



	ده تایی	یکی
۲۳	۲	۳

	ده تایی	یکی
۳۹	۳	۹

	ده تایی	یکی
۷۱	۷	۱

	ده تایی	یکی
۴۰	۴	۰

۴۷ - ۴۸ - ۴۹ - ۵۰ - ۵۱ - ۵۲ - ۵۳ - ۵۴ - ۵۵ - ۵۶ - ۵۷

از عدد ۶۳ شروع کنید و تا عدد ۷۵ بنویسید.

۶۳ - ۶۴ - ۶۵ - ۶۶ - ۶۷ - ۶۸ - ۶۹ - ۷۰ - ۷۱ - ۷۲ - ۷۳ - ۷۴ - ۷۵


۱	۲	۳	۴	۵	۶	۷	۸	۹	۱۰
۱۱	۱۲	۱۳	۱۴	۱۵	۱۶	۱۷	۱۸	۱۹	۲۰
۲۱	۲۲	۲۳	۲۴	۲۵	۲۶	۲۷	۲۸	۲۹	۳۰
۳۱	۳۲	۳۳	۳۴	۳۵	۳۶	۳۷	۳۸	۳۹	۴۰






بشمار و بنویس

با توجه به مربع‌های رنگ شده با چوب‌خط‌ها جمع‌ها را بنویس و حاصل را پیدا کن. عددهایی را که با حروف نوشته شده است با عدد بنویس.



$$7 + 6 + 5 = 18$$



$$6 + 8 + 5 = 19$$



$$4 + 4 + 5 = 13$$

$$5 + 5 + 10 + 10 = 30$$

$$10 + 20 + 10 + 20 = 60$$

$$5 + 5 + 20 + 20 = 50$$

$$2 + 3 + 5 + 10 = 20$$



سه ۳

دو ۲

هفت ۷

چهار ۴

یک ۱

پنج ۵

هشت ۸

نه ۹

شش ۶

ده ۱۰



با چوب خط جمع یا تفریق کن.
مسئله‌ها را با رسم چوب خط حل کن.

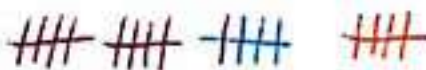
مسئله
حل کن



$$7 + 8 = 15$$



$$11 + 4 + 5 = 20$$

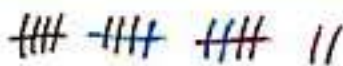


$$15 - 5 = 10$$



۴ اردک در آب بودند. ۵ اردک دیگر به آنها اضافه شدند. ۳ اردک دیگر هم آمدند. چند اردک در آب است؟

۱۲... اردک در آب است.



۸ دانش آموز در کلاس بودند. ۴ دانش آموز دیگر به کلاس آمدند. ۵ دانش آموز دیگر هم به کلاس آمدند. چند دانش آموز در کلاس هستند؟

۱۷... دانش آموز در کلاس است.





با ابزار کار کن

اندازه‌ی مداد بین کدام دو عدد است؟
جاهای خالی را با عدد مناسب پر کن.



اندازه‌ی مداد بین ۵ تا ۶ است.



اندازه‌ی مداد بین ۱۴ تا ۱۵ است.




اندازه‌ی مداد بین ۷ تا ۸ است.

مداد شماره‌ی ۳ کوتاه‌تر از مداد شماره‌ی ۲ است.

مداد شماره‌ی ۱ هم اندازه‌ی مداد شماره‌ی ۵ است.

مداد شماره‌ی ۲ بلندترین مداد است.

مداد شماره‌ی ۴ کوتاه‌ترین مداد است.



عددها را با توجه به الگو ادامه بده.
مانند نمونه، زمانی را بنویس که ساعت نشان می دهد.

الگویابی
کن



۴ - ۶ - ۸ - ۱۰ - ۱۲ - ۱۴ - ۱۶ - ۱۸

+۲ +۲ +۲

۲۵ - ۳۰ - ۳۵ - ۴۰ - ۴۵ - ۵۰ - ۵۵ - ۶۰

+۵ +۵ +۵



۲



۴



۶



۸



۵



۷



اندازه‌گیری کن

جاهای خالی را پر کن.

در هر قسمت، مشخص کن که کدام کار بیشتر طول می‌کشد. با X مشخص کن.



زمان بین

ساعت ۱۱ و ۱۲

است.



زمان بین

ساعت ۸ و ۹

است.



زمان بین

ساعت ۴ و ۵

است.

