



۲۲

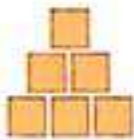
جاهای خالی را پر کن.

جدول عددها را با شمردن ۶ تا ۶ تا رنگ کن و سپس الگوی عددی را با کمک جدول کامل کن.

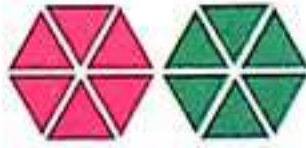
بشمار و بنویس



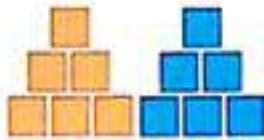
۶



۶



۱۲



۱۲



۱۸



۱۸



۶



۱۲



۱۸



۲۴

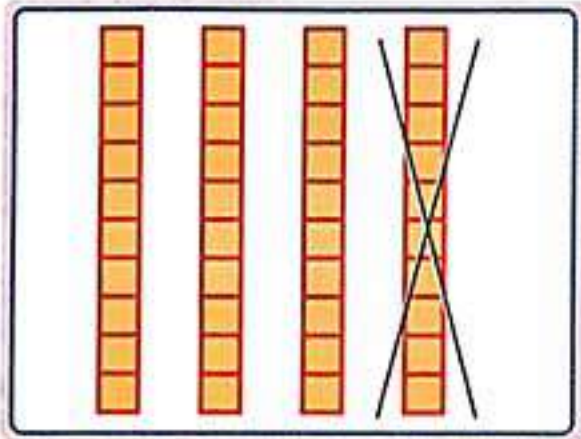


۱	۲	۳	۴	۵	۶	۷	۸	۹	۱۰
۱۱	۱۲	۱۳	۱۴	۱۵	۱۶	۱۷	۱۸	۱۹	۲۰
۲۱	۲۲	۲۳	۲۴	۲۵	۲۶	۲۷	۲۸	۲۹	۳۰
۳۱	۳۲	۳۳	۳۴	۳۵	۳۶	۳۷	۳۸	۳۹	۴۰
۴۱	۴۲	۴۳	۴۴	۴۵	۴۶	۴۷	۴۸	۴۹	۵۰

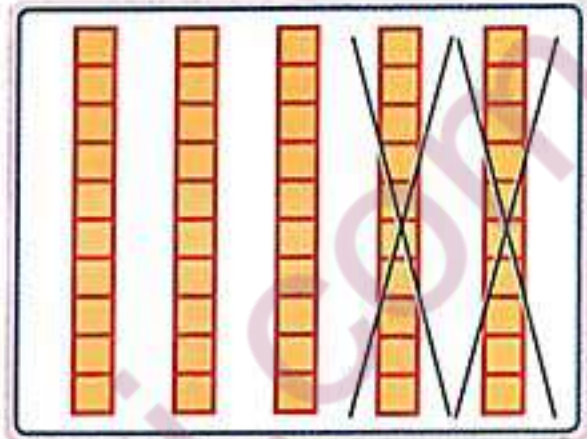


۰ - ۶ - ۱۲ - ۱۸ - ۲۴ - ۳۰ - ۳۶ - ۴۲ - ۴۸






$$۴۰ - ۱۰ = ۳۰$$



$$۵۰ - ۲۰ = ۳۰$$

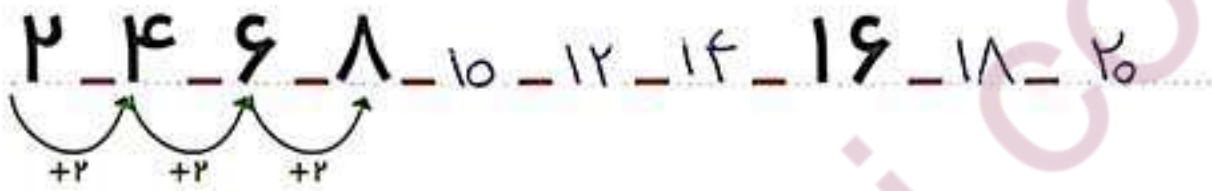
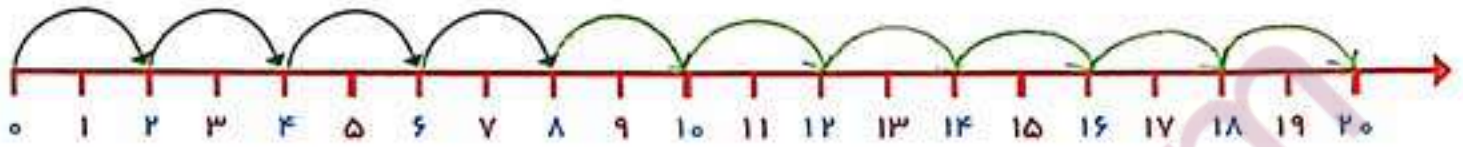


$$۳۰ - ۱۰ = ۲۰$$

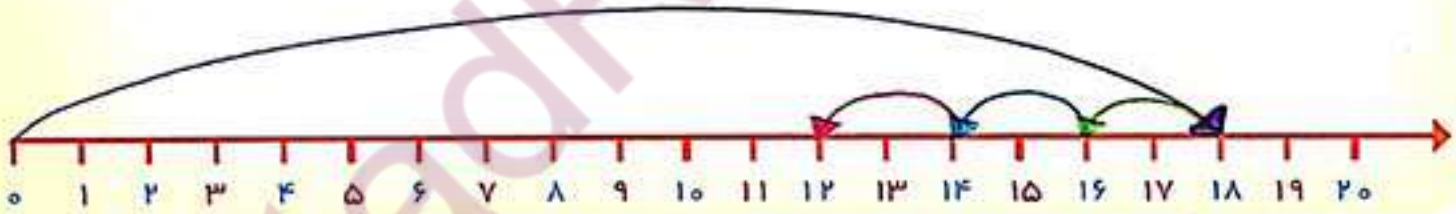
$$۴۰ - ۲۰ = ۲۰$$

$$۱۵ - ۵ = ۱۰$$

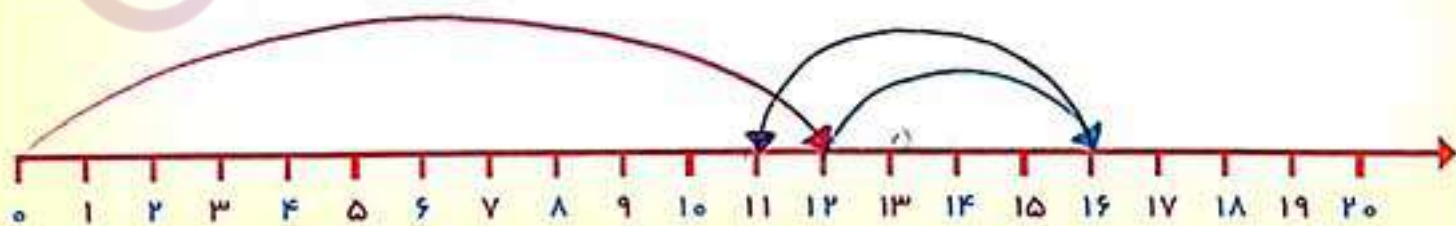
$$۲۵ - ۵ = ۲۰$$



یک اتوبوس ۱۸ مسافر داشت. در اولین ایستگاه ۲ نفر پیاده شدند. در دومین ایستگاه ۲ نفر دیگر پیاده شدند. در ایستگاه سوم ۲ نفر دیگر پیاده شدند. حالا اتوبوس چند مسافر دارد؟ ۱۲ مسافر دارد.



در یک کلاس ۱۲ دانش‌آموز نشسته بودند. ۴ نفر وارد کلاس شدند. ۵ نفر از کلاس بیرون رفتند. حالا چند نفر در کلاس هستند؟ ۱۱ دانش‌آموز در کلاس است.

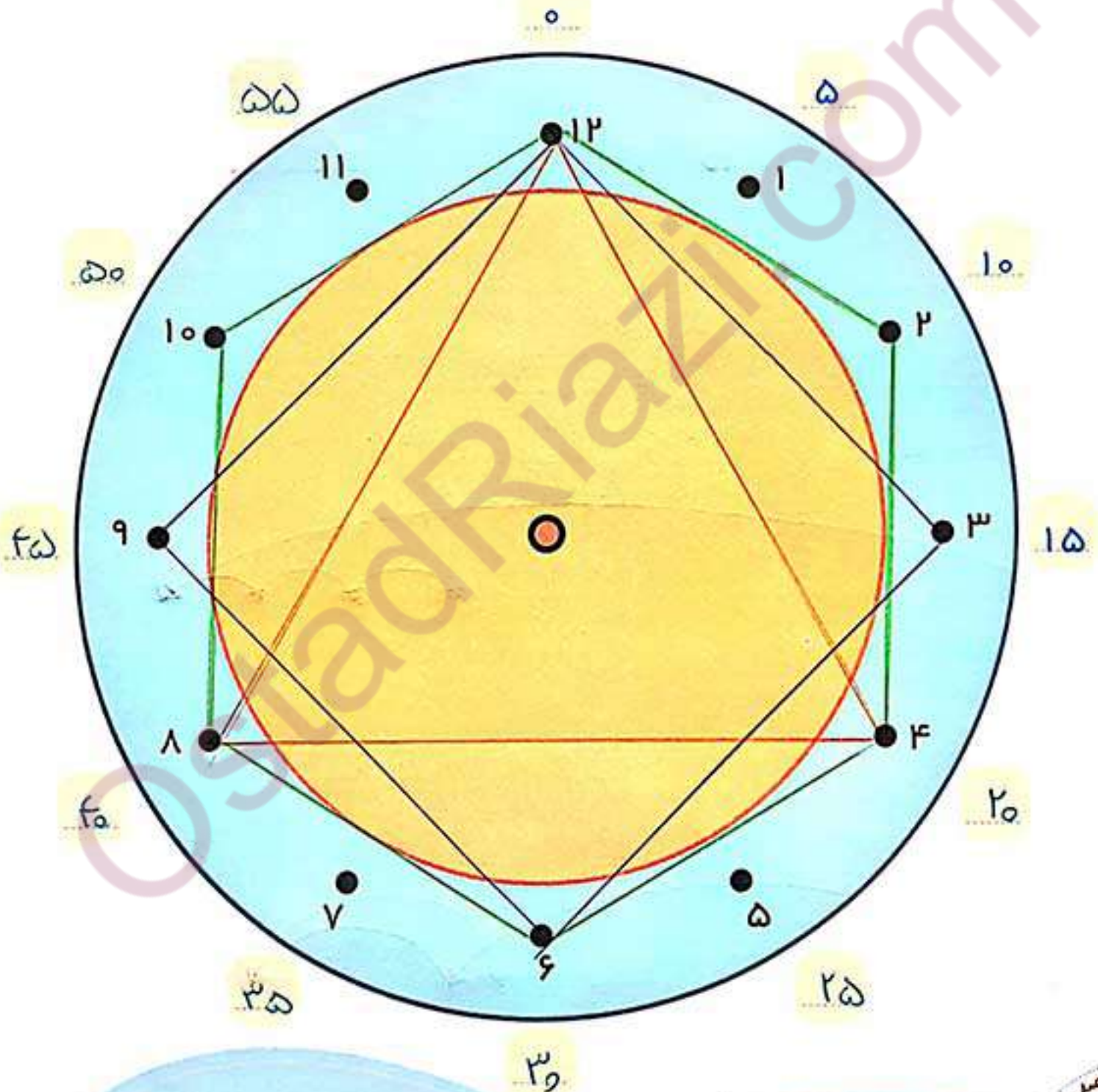


با توجه به توضیحات داده شده، نقطه‌ها را روی دایره با خط کش به هم وصل کن.

با ابزار
کار کن



از ۲ شروع کن و ۲ تا ۲ تا بشمار و نقطه‌ها را وصل کن و به ۲ برگرد.
از ۳ شروع کن. ۳ تا ۳ تا بشمار و نقطه‌ها را به هم وصل کن و به ۳ برگرد.
از ۴ شروع کن. ۴ تا ۴ تا بشمار و نقطه‌ها را به هم وصل کن و به ۴ برگرد.
عددهای آبی رنگ دور ساعت را هم با توجه به الگویی که دارد، ادامه بده و کامل کن.





بشمار و بنویس

جاهای خالی را با عدد مناسب پر کن.
۷ تا ۷ تا بشمار و رنگ کردن را ادامه بده.



۷



۱۴



۲۱



۷



۱۴



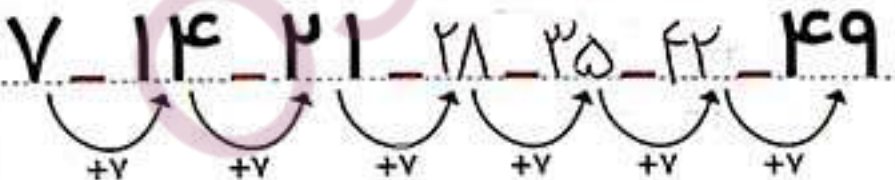
۲۱



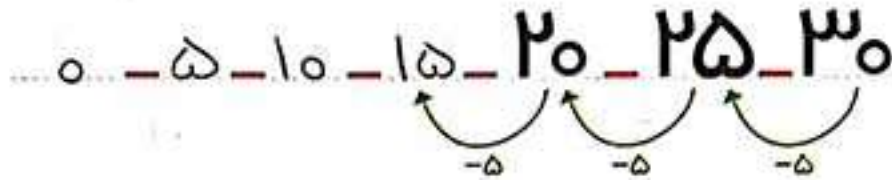
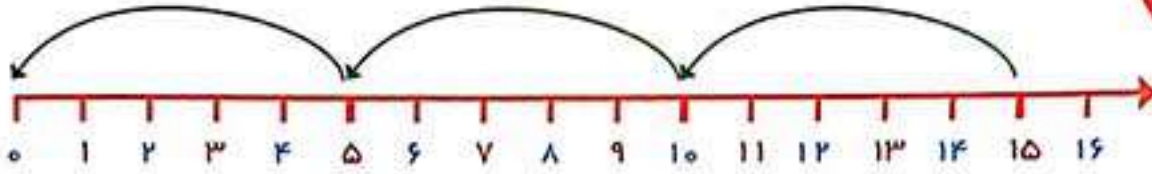
۲۸



۱	۲	۳	۴	۵	۶	۷	۸	۹	۱۰
۱۱	۱۲	۱۳	۱۴	۱۵	۱۶	۱۷	۱۸	۱۹	۲۰
۲۱	۲۲	۲۳	۲۴	۲۵	۲۶	۲۷	۲۸	۲۹	۳۰
۳۱	۳۲	۳۳	۳۴	۳۵	۳۶	۳۷	۳۸	۳۹	۴۰
۴۱	۴۲	۴۳	۴۴	۴۵	۴۶	۴۷	۴۸	۴۹	۵۰



۷	۶	۵	۴	۳	۲	۱
۱۴	۱۳	۱۲	۱۱	۱۰	۹	۸
۲۱	۲۰	۱۹	۱۸	۱۷	۱۶	۱۵
۲۸	۲۷	۲۶	۲۵	۲۴	۲۳	۲۲
					۳۰	۲۹



پنجاه ۵۰	چهل ۴۰	سی ۳۰	بیست ۲۰	ده ۱۰

نود ۹۰	هشتاد ۸۰	هفتاد ۷۰	شصت ۶۰

صد و پنجاه و چهار