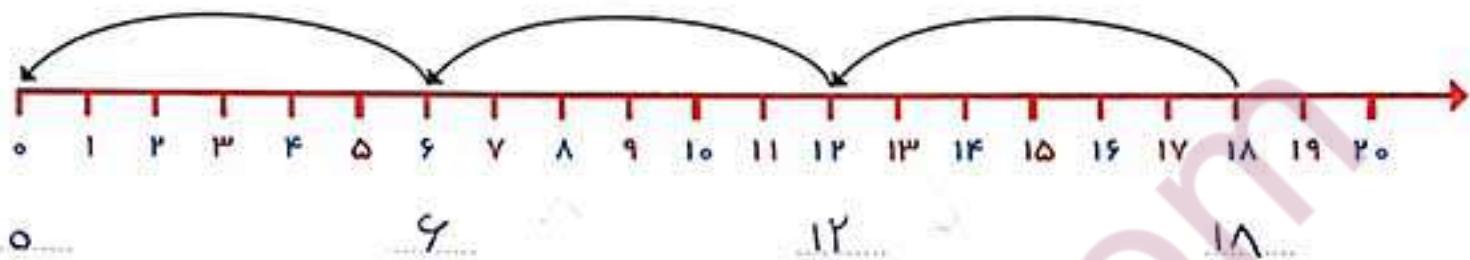


مسئله حل کن

جاهای خالی را با عدد مناسب پر کن.
مسئله را با رسم شکل حل کن.



علی یک بسته مداد رنگی ۱۲ تایی داشت. دوستش به او یک بسته مداد رنگی ۶ تایی هدیه داد.

###

(۱) علی چند مداد رنگی دارد؟


(۲) او مدادهای زرد و آبی را از هر دو دسته برداشت، چند مداد برداشته است؟

###

(۳) چند مداد برایش باقی مانده است؟



زهرا ۱۸ مداد رنگی داشت. ۶ تا را در خانه گذاشت و به مدرسه رفت. در مدرسه ۶ تا از مدادها را به دوستش داد. حالا چند تا مداد رنگی برایش باقی مانده است؟





۳



۵



۱۵



۱۲



۴



۹



ساعت از ۵ گذشته است.



ساعت از ۱۰ گذشته است.



کسی به ساعت ۲ مانده است.

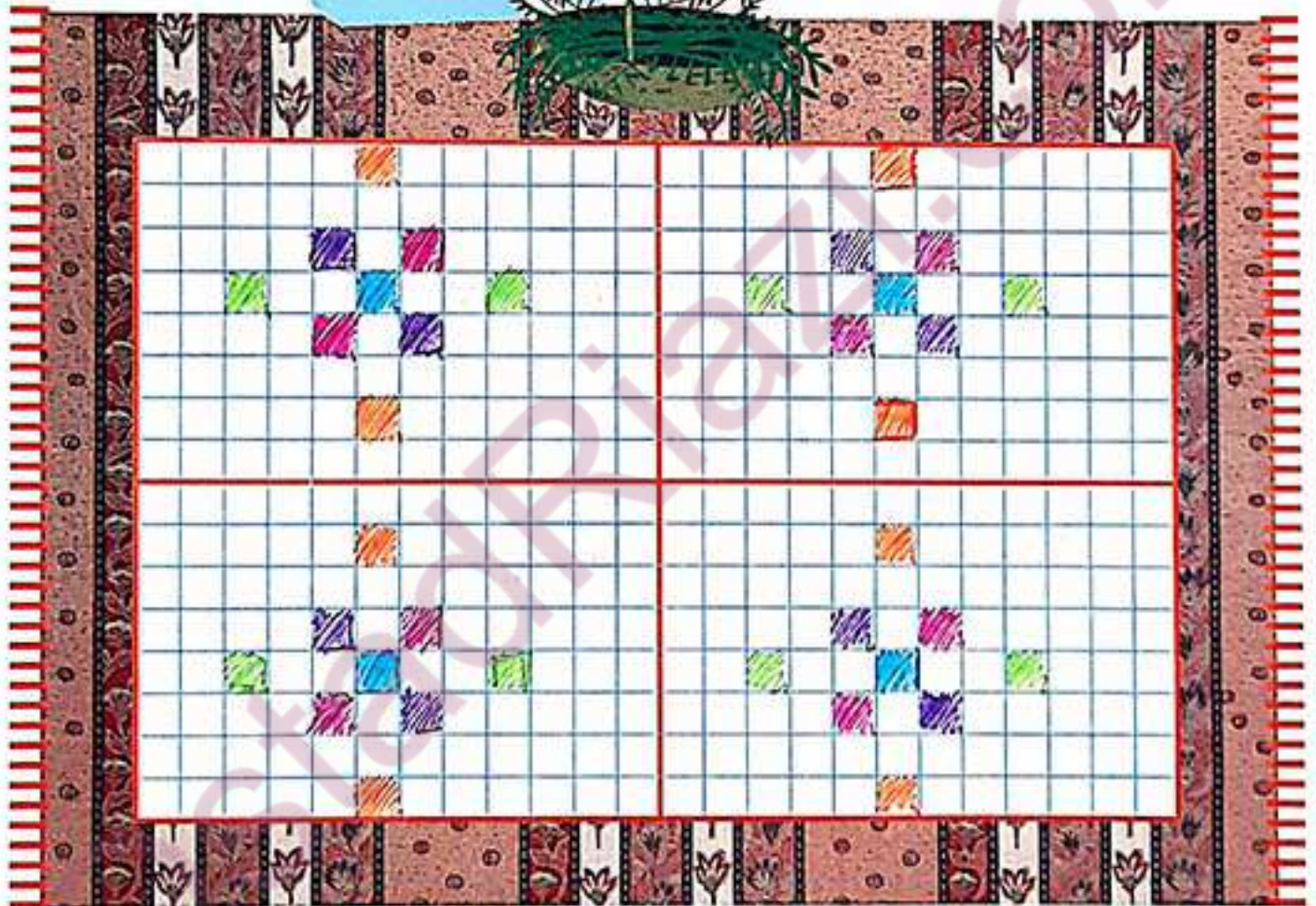


کسی به ساعت ۴ مانده است.



با ابزار کار کن

فرش زیر به چهار قسمت تقسیم شده است. ۵ تا از مربع‌های یک قسمت را رنگ کن. ۳ قسمت دیگر را هم مانند همان قسمت کامل کن.



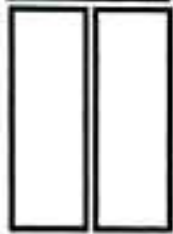



پنجاه - شصت - هفتاد - هشتاد - نود

نود و یک - نود و دو - نود و سه - نود و چهار - نود و پنج


نام هر شکل نوشته شده است. با شابلون یک شکل، مثل آن بکش.

با استفاده از شابلون یک شکل درست کن، سپس آن را رنگ کن. از هر شکل چند مرتبه استفاده کردی؟


با ابزار
کار کن



مربع



مثلث



دایره



مستطیل



۱۲ شکلات در ظرف بود. بچه‌ها ۷ تا را خوردند. حالا چند شکلات در ظرف است؟



شکلات در ظرف مانده است. $12 - 7 = 5$

منصوره ۱۸ ستاره‌ی رنگی داشت. ۸ تا را در دفترش چسباند. حالا چند ستاره دارد؟



$18 - 8 = 10$

فرهاد ۱۷ کارت بازی در دست داشت. ۶ تا را روی میز گذاشت. حالا چند کارت در دست دارد؟



$17 - 6 = 11$


فاطمه ۱۱ مهره‌ی رنگی داشت. ۴ تا مهره‌ی قرمز هم خرید. حالا فاطمه چند مهره دارد؟



مهره دارد. $11 + 4 = 15$

در خانه ۱۲ قاشق غذاخوری بود. مادر یک بسته‌ی ۶ تایی دیگر خرید.

حالا چند قاشق غذاخوری در خانه است؟



$12 + 6 = 18$



مسئله‌ها را با استفاده از چوب خط، مهره و چیزهای دیگر حل کن! سپس جمله‌ها را کامل کن.
 چه در هر ردیف کدام سنگین‌تر است؟ با X مشخص کن.

مسئله حل کن



در گلدان ۶ گل سفید و ۸ گل صورتی بود. ۱۰ تا از گل‌ها پژمرده شد. چند گل شاداب در گلدان است؟

۱۴... گل در گلدان است. $6 + 8 = 14$ ~~///~~ ~~///~~ ~~///~~

۴... گل شاداب است. $14 - 10 = 4$

مهرداد ۹ کاغذ رنگی زرد و ۷ کاغذ رنگی قرمز برداشت. ۱۲ تا از کاغذ رنگی‌ها را به دوستانش داد و با بقیه‌ی کاغذها یک بادبادک زیبا درست کرد. مهرداد با چند کاغذ رنگی بادبادک درست کرد؟



مهرداد ۱۶... کاغذ رنگی دارد. $9 + 7 = 16$ ~~///~~ ~~///~~ ~~///~~ ~~///~~

با ۴... کاغذ، بادبادک درست کرد. $16 - 12 = 4$

