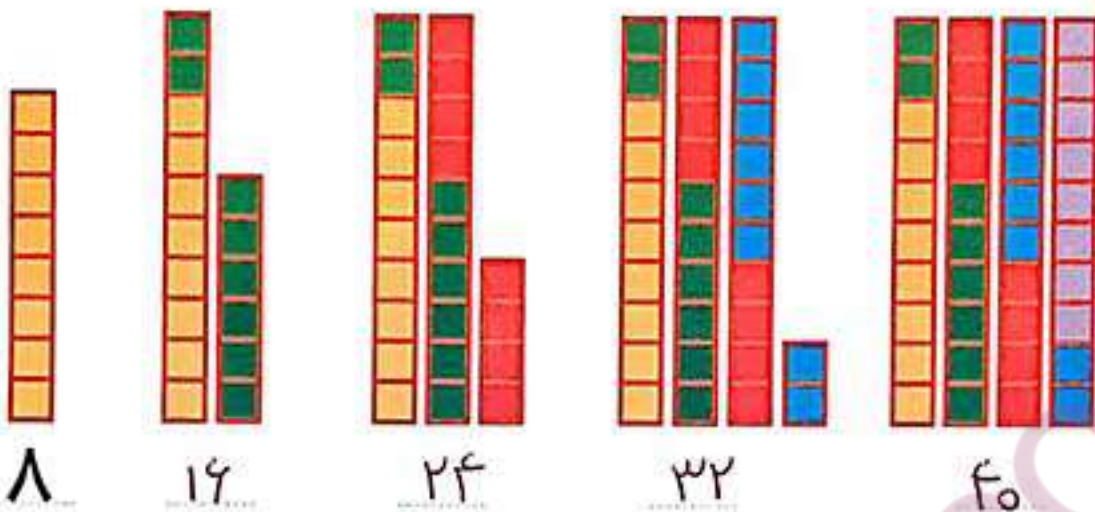


۱	۲	۳							۱۰
۱۱	۱۲								
									۱۰۰



با کمک شکل، جاهای خالی را پر کن، سپس مسئله‌ها را با استفاده از شکل حل کن.

مسئله
حل کن



۱۶

مهری ۲۴ عکس از کودکی خود دارد. مادر بزرگ ۸ تا از عکس‌هایش را گرفت. حالا چند عکس دارد؟
اگر خاله هم ۸ عکس دیگرش را بگیرد، چند عکس برایش باقی می‌ماند؟

۸ عکس برایش می‌ماند.



علی ۲۷ تیله داشت. ۷ تا را به دوستش رضا داد. ۵ تا تیله‌ی دیگر را هم به محمد داد. حالا چند تا تیله
برایش باقی مانده است؟

۱۵ تیله باقی می‌ماند.







بشمار و بنویس

- جاهای خالی را پر کن.
- کدام کار در مدت کمتری انجام می شود؟ × بزن.



۹ بسته ی ۱۰ تایی داریم.
 یک بسته ی ۱۰ تایی دیگر اضافه کردیم.
 حالا چند بسته ی ۱۰ تایی داریم؟
 ۱۰ بسته ی ده تایی



شکل روبه رو چند بسته ی ده تایی را نشان می دهد؟
 به ۱۰ بسته ی ۱۰ تایی یک دسته ی صدتایی می گویند.
 حالا جدول را برای شکل بالا کامل کن.
 عدد صد را از جدول خارج کن و بنویس:

صدتایی	ده تایی	یکی
۱	۰	۰

=> ۱۰۰





از عدد ۲۰ تا ۳۰ را یکی یکی بنویس.

۲۰ _ ۲۱ _ ۲۲ _ ۲۳ _ ۲۴ _ ۲۵ _ ۲۶ _ ۲۷ _ ۲۸ _ ۲۹ _ ۳۰ _

از عدد ۱۰ تا ۱۰۰ را ۱۰ تا ۱۰ بنویس.

۱۰ _ ۲۰ _ ۳۰ _ ۴۰ _ ۵۰ _ ۶۰ _ ۷۰ _ ۸۰ _ ۹۰ _ ۱۰۰

از ۹۰ تا ۱۰۰ را یکی یکی بنویس.

۹۰ _ ۹۱ _ ۹۲ _ ۹۳ _ ۹۴ _ ۹۵ _ ۹۶ _ ۹۷ _ ۹۸ _ ۹۹ _ ۱۰۰

از عدد ۱۰ تا ۵۰ را ۵ تا ۵ بنویس.

۱۰ _ ۱۵ _ ۲۰ _ ۲۵ _ ۳۰ _ ۳۵ _ ۴۰ _ ۴۵ _ ۵۰

از عدد ۷۰ تا ۱۰۰ را ۵ تا ۵ بنویس.

۷۰ _ ۷۵ _ ۸۰ _ ۸۵ _ ۹۰ _ ۹۵ _ ۱۰۰



در کلاس اول ۲۹ دانش‌آموز نشسته بودند. ۹ نفر از آنها از کلاس بیرون رفتند. چند نفر در کلاس ماندند؟



۲۰ در کلاس ماندند.

کلاس دوم ۲۷ دانش‌آموز دارد. ۹ نفر آنها برای بازی فوتبال رفتند. اگر ۹ نفر دیگر هم برای طناب زدن بروند، چند نفر در کلاس باقی مانده‌اند؟



۹ در کلاس ماندند.



اگر اطلاعات مسئله کافی است آن را حل کن.
عقربه‌های ساعت آخر را با توجه به الگوی آن بکش.

مسئله
حل کن



۱) یک اتوبوس ۴۰ صندلی دارد. ۲۴ مسافر در اتوبوس بودند که به ایستگاه امام خمینی رسید. ۴ نفر از اتوبوس پیاده شدند. اتوبوس چند صندلی دارد؟



۲) سعیده یک کتابخانه‌ی ۲ طبقه دارد. در طبقه‌ی اول ۱۲ کتاب و در طبقه‌ی دوم ۱۳ کتاب دارد. او ۴ کتاب از طبقه‌ی اول برداشت و در طبقه‌ی دوم قرار داد. او روی هم چند کتاب در این کتابخانه دارد؟




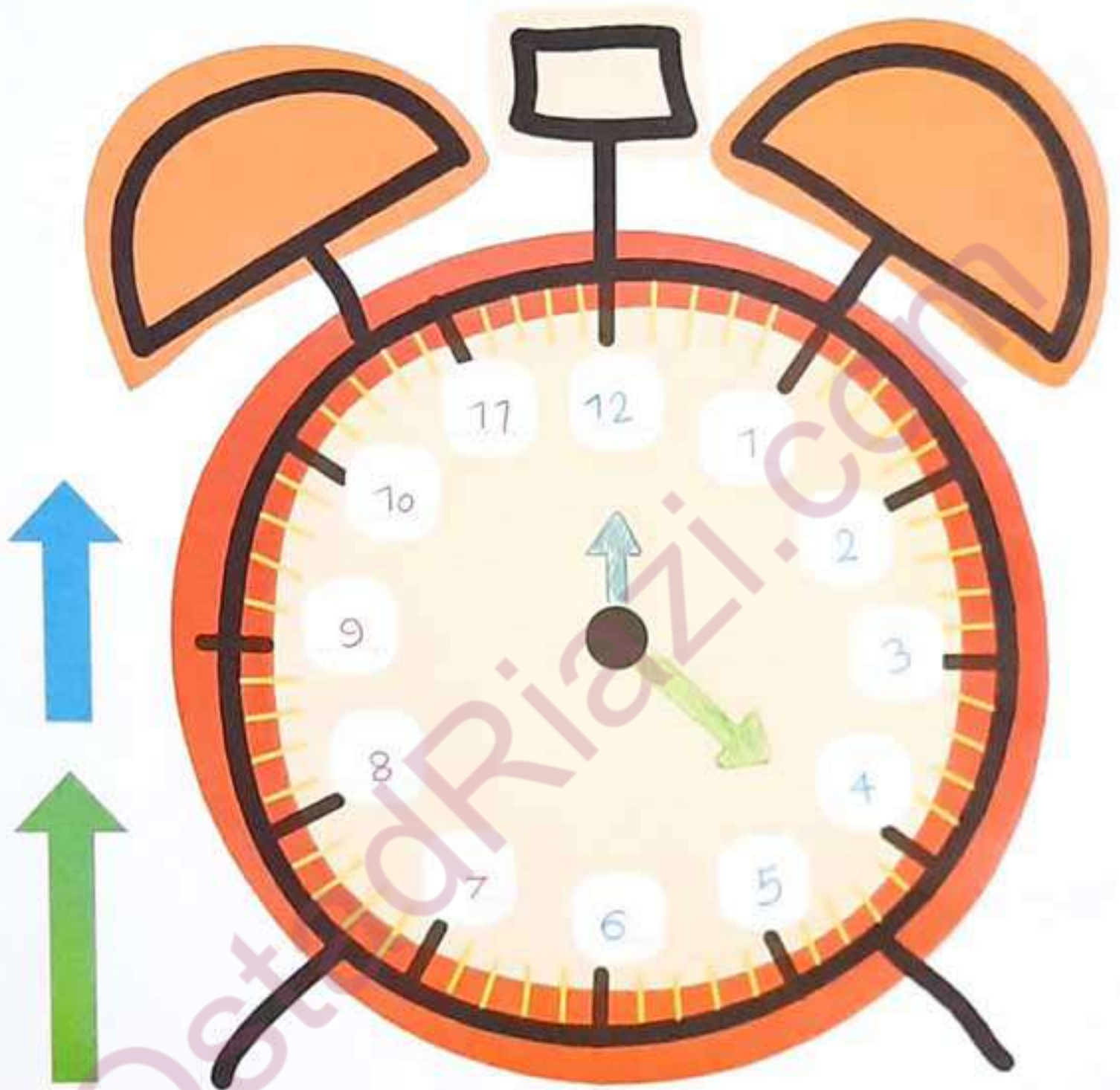
$$12 + 13 = 25$$

۲۵ کتاب در

۳) ۲ تاکسی از ابتدای خط شروع به حرکت کردند. در یک تاکسی ۴ مسافر و در تاکسی دیگر ۳ مسافر نشسته بودند. در بین راه چند نفر پیاده و چند نفر دیگر سوار شدند. در انتهای این مسیر چند مسافر از تاکسی‌ها پیاده شدند؟

اطلاعات مسئله کافی نیست





OstadRiazi.com



