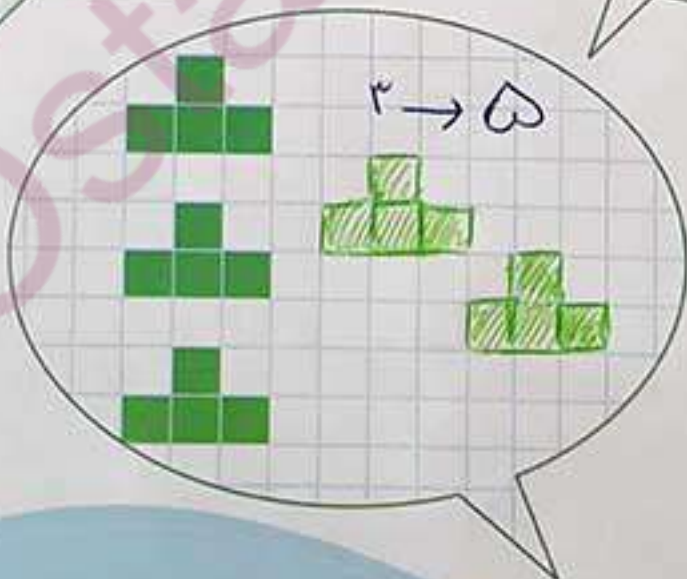
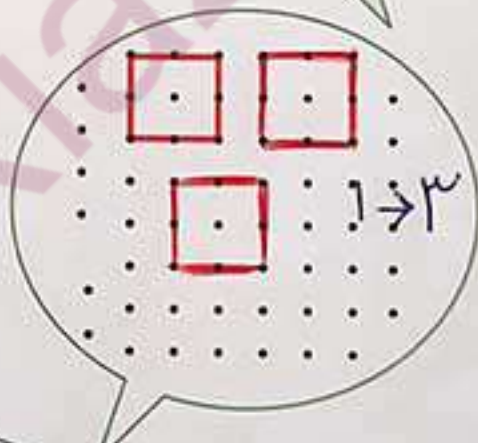






۲ تا شکل به هر دسته اضافه کن و بگو چند تا می شود.

بشمار  
و بگو





# بشمار و بگو

در هر شکل تعداد انگشتان باز شده را با انگشتان دست نشان بده.   
 و الگورا ادامه بده.






هر شکل با چند چوب کبریت درست شده است؟ شما هم با چوب کبریت چند تا شکل بساز و بشمار. مربع های شگفت انگیز را با رنگ مناسب کامل کن.


بشمار و بگو



از هدف های دیگر فعالیت بالا آشنایی دانش آموزان با نمایش های مختلف یک عدد است. فعالیت بالا را با چوب کبریت یا چیرهای مشابه در منزل انجام دهید. است که باید ۴ مربع به رنگ های مختلف داشته باشد.

بشمار و بگو

هر دسته چند تا شکل دارد؟ اگر ۲ تا شکل دیگر اضافه کنیم چند تا می شود؟  
کورا به همان ترتیب ادامه بده.



هر دسته از شکل‌های روی بالن از چند شکل کوچک درست شده است؟

بشمار  
و بگو

